

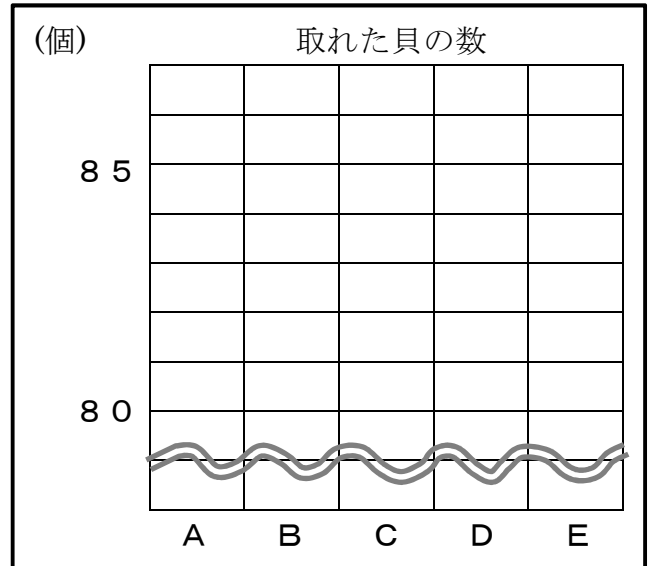
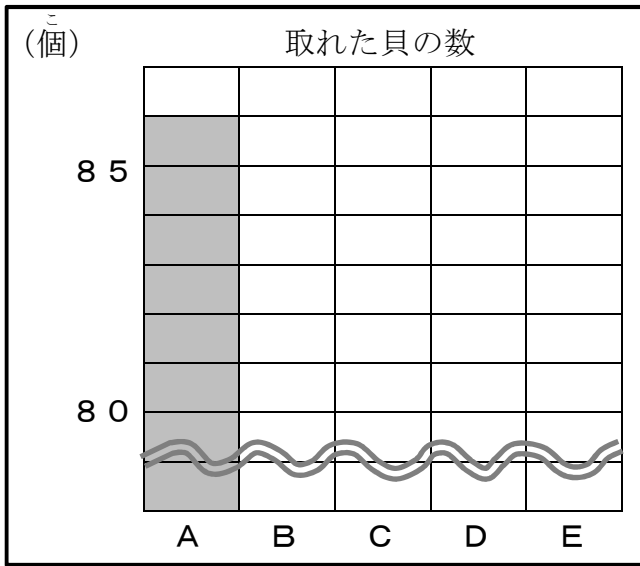
【確認問題⑧－1】

算数 平均	5年組 名前
-------	--------

問一 A, B, C, D, Eさんの5人は、東浜へ潮干狩りに出かけ、取れた貝の数を表に表しました。

「東浜」	A	B	C	D	E
取れた数(個)	86	83	81	83	87

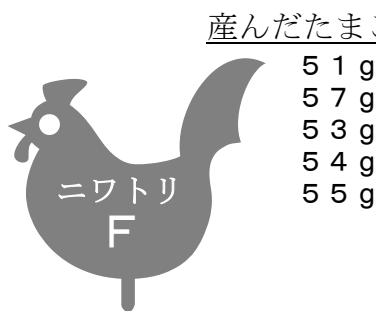
- (1) 上の表をもとに、図に表しましょう。(2) 全員の量が同じになるように、(Aさんの続きをかきましよう。)



(3) (2) の図から、1人平均何個取れたといえるでしょうか。

【答え】 個

問二 ニワトリFとニワトリGは、どちらが重いたまごをよく産んだといえるでしょうか。平均を求めて比べてみましょう。



【答え】 ニワトリF 平均 g, ニワトリG 平均 g

【答え】 ニワトリ の方が重いたまごを産んだといえる。

問 三 ゆうこさんの家では、1か月に平均、1袋^{ふくろ}5kg入りの米をだいたい3袋分食べるそうです。1年間では、およそ何kgの米を食べることになるでしょうか。

【式】

【答え】 およそ

kg

問 四 けいすけさんが10歩で歩いたときの長さを5回はかると、6.1m, 6.3m, 6.0m, 6.4m, 6.2m でした。

(1) けいすけさんの歩はば(1歩分の長さ)の平均は、およそ何mでしょうか。

【式】

【答え】 およそ

m

(2) けいすけさんが校庭を1周歩くと550歩でした。校庭1周の長さは、およそ何mといえるでしょうか。

【式】

【答え】 およそ

m